

SÈRIE 1

L'alumne ha de respondre 5 preguntes. Obligatòriament ha de respondre la 1, 2 i 3 i escollir una entre la 4 i la 5, i escollir una entre la 6 i la 7.

Com a norma general, tingueu en compte que un error no s'ha de penalitzar dues vegades. Si una subpregunta necessita un resultat anterior, i aquest és erroni, cal valorar la resposta independentment del valor numèric, i tenir en compte el procediment de resolució (sempre que els valors emprats i/o els resultats no siguin absurds).

Un error en la formulació penalitza 0,5 punts en aquella subpregunta, com s'explicita en la pauta. En cap cas una subpregunta pot tenir una puntuació "negativa".

Pregunta 1.a)

$$\Delta H^\circ_{\text{reacció}} = (\sum n_p \Delta H^\circ_{\text{f, productes}}) - (\sum n_r \Delta H^\circ_{\text{f, reactius}}) \quad [0,2 \text{ p}]$$

$$\Delta H^\circ_{\text{reacció}} = [(7 \times \Delta H^\circ_{\text{f, monòxid de carboni}}) + (5 \times \Delta H^\circ_{\text{f, aigua}})] - (2 \times \Delta H^\circ_{\text{f, TNT}})$$

$$\Delta H^\circ_{\text{reacció}} = [(7 \times (-110,3)) + (5 \times (-241,6))] - (2 \times (-364,1))$$

$$\Delta H^\circ_{\text{reacció}} = -1251,9 \text{ kJ} \quad [0,3 \text{ p}]$$

A pressió constant $\Rightarrow q_p = \Delta H^\circ_{\text{reacció}}$ [0,2 p]
(on q_p és la calor a pressió constant)

Massa molecular del TNT = $(7 \times 12) + (5 \times 1) + (3 \times 14) + (6 \times 16) = 227 \text{ g/mol}$

$$2,27 \text{ kg TNT} \times (1000 \text{ g TNT} / 1 \text{ kg TNT}) \times (1 \text{ mol TNT} / 227 \text{ g TNT}) \times (-1251,9 \text{ kJ} / 2 \text{ mol TNT}) = -6259,5 \text{ kJ}$$

$$\text{Calor produïda} = 6259,5 \text{ kJ} \quad [0,3 \text{ p}]$$

Pregunta 1.b)

- a) El signe de la **variació d'entropia serà positiva** ja que el desordre en els productes és superior al dels reactius, degut al fet que el nombre de molècules de gas és major en els productes (15 molècules) que en els reactius (0 molècules).

\uparrow molècules de gasos \Rightarrow \uparrow desordre $\Rightarrow S^\circ \uparrow$

$S^\circ(\text{productes}) > S^\circ(\text{reactius})$

$\Delta S^\circ = S^\circ(\text{productes}) - S^\circ(\text{reactius}) > 0$

$$\Delta S^\circ > 0$$

[0,5 p]

Per determinar l'espontaneïtat d'una reacció, a p i T constant, es calcula la variació d'energia lliure (ΔG°):

$$\Delta G^\circ = \Delta H^\circ - T \Delta S^\circ$$

Si $\Delta G^\circ < 0 \Rightarrow$ reacció espontània

[0,2 p]

En la reacció del TNT tenim:

$$\Delta H^\circ < 0$$

$$\Delta S^\circ > 0$$

En l'equació $\Delta G^\circ = \Delta H^\circ - T \Delta S^\circ$, el primer terme (ΔH°) és negatiu i el segon ($-T\Delta S^\circ$) és també negatiu, ja que la temperatura en Kelvin sempre és positiva. Per tant ΔG° serà sempre negativa

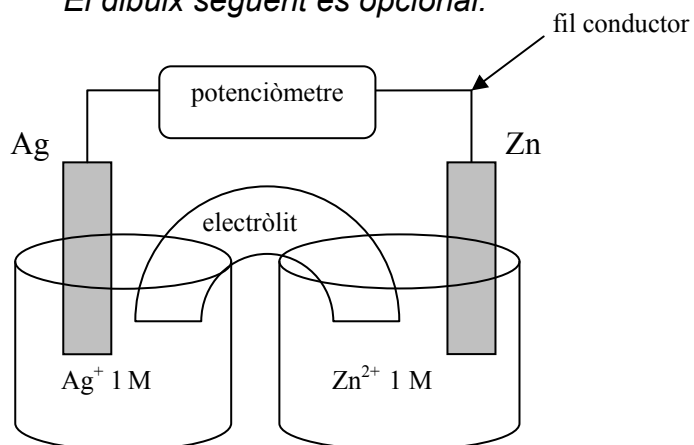
Per a qualsevol temperatura, la reacció serà espontània

[0,3 p]

Pregunta 2.a)Procediment experimental per a construir la pila; material i reactius:

- Necessitem dos vasos de precipitats: un que contingui una solució de Ag^+ 1 M i un altra que contingui una solució de Zn^{2+} 1 M. **[0,2 p]**
- Hi col·loquem, respectivament, una làmina (o fil) de Ag i una làmina de Zn parcialment submergides (elèctrodes). **[0,2 p]**
- Es connecten les làmines mitjançant un fil conductor a un potenciòmetre (ó voltímetre). **[0,3 p]**
- El circuit es tanca col·locant un pont salí: tub que connecta els dos vasos i que conté una solució d'un electròlit inert (o una solució d'una sal soluble). **[0,3 p]**

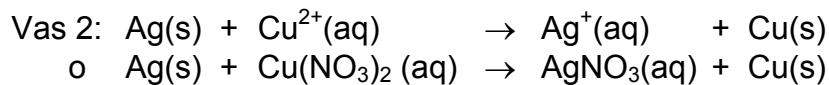
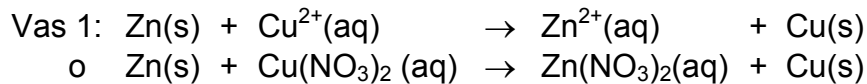
El dibuix següent és opcional.



El càlcul de la força electromotriu de la pila no es demana en aquest exercici i, per tant, no és necessari per tenir la màxima puntuació de la pregunta 2a.

Pregunta 2.b)**Formulació. Nitrat de coure(II): $\text{Cu}(\text{NO}_3)_2$** **[penalització: -0,5 punts]**

Les possibles reaccions (no igualades) en els vasos serien:

Justificar si hi haurà reacció. Cal raonar si les reaccions són espontànies.**Raonament 1:**Per saber si la reacció redox és espontània cal calcular la força electromotriu de la pila en què tingués lloc aquesta reacció en condicions estàndard (E°).

Tenim:

$$E^\circ > 0 \Rightarrow \text{reacció redox espontània} \quad [0,4 \text{ p}]$$

(opcional: reacció espontània $\Rightarrow \Delta G = -n F E^\circ < 0$)

Calculem el valor de E° .El càtode és sempre el Cu^{2+}/Cu –reducció– i l'ànode és el Zn^{2+}/Zn (vas 1) o el Ag^+/Ag (vas 2) –oxidació–.

$$\begin{aligned} \text{Vas 1: } \quad E^\circ &= E^\circ_{\text{CÀTODE}} - E^\circ_{\text{ÀNODE}} = E^\circ(\text{Cu}^{2+}/\text{Cu}) - E^\circ(\text{Zn}^{2+}/\text{Zn}) \\ E^\circ &= (+0,34) - (-0,76) = +1,10 \text{ V} > 0 \end{aligned}$$

$$E^\circ > 0 \text{ Reacció espontània. Hi haurà reacció} \quad [0,2 \text{ p}]$$

$$\begin{aligned} \text{Vas 2: } \quad E^\circ &= E^\circ_{\text{CÀTODE}} - E^\circ_{\text{ÀNODE}} = E^\circ(\text{Cu}^{2+}/\text{Cu}) - E^\circ(\text{Ag}^+/\text{Ag}) \\ E^\circ &= (+0,34) - (+0,80) = -0,46 \text{ V} < 0 \end{aligned}$$

$$E^\circ < 0 \text{ Reacció no espontània. No hi haurà reacció} \quad [0,2 \text{ p}]$$

Raonament 2:

També es pot raonar indicant que el potencial de reducció del parell que es redueix (Cu^{2+}/Cu , càtode) hauria de ser més gran que el que s'oxida (Zn^{2+}/Zn o Ag^+/Ag , ànode) perquè la reacció sigui espontània. [0,4 p]

Tenim:

$$\text{Vas 1: } E^0(\text{Cu}^{2+}/\text{Cu}) > E^0(\text{Zn}^{2+}/\text{Zn}) \quad \text{o} \quad E^0_{\text{càtode}} > E^0_{\text{ànode}}$$

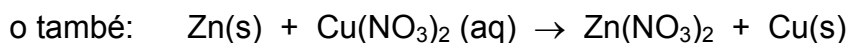
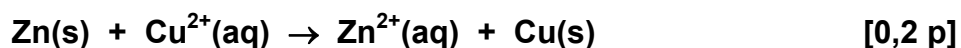
Reacció espontània. Hi haurà reacció [0,2 p]

$$\text{Vas 2: } E^0(\text{Cu}^{2+}/\text{Cu}) < E^0(\text{Ag}^+/\text{Ag}) \quad \text{o} \quad E^0_{\text{càtode}} < E^0_{\text{ànode}}$$

Reacció no espontània. No hi haurà reacció [0,2 p]

Igualació de la reacció que es produeix (vas 1):

Reacció igualada (vas 1):

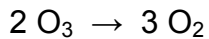


- *En la reacció igualada, no és necessari que indiquin els estats físics de reactius i productes per tenir la màxima puntuació (0,2 p).*

Pregunta 3.a)

Reacció global del procés de descomposició de l'ozó:

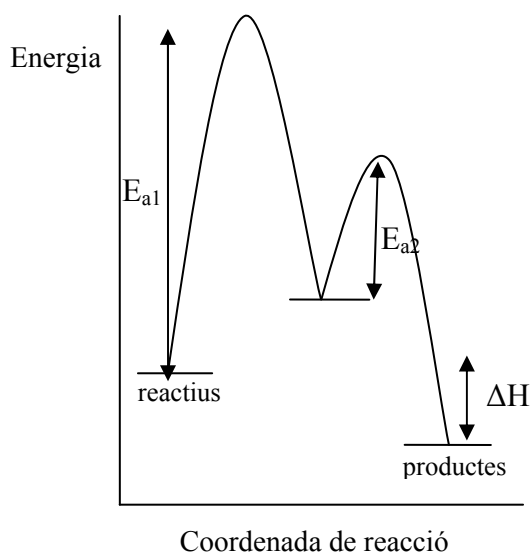
Cal sumar les reaccions de les dues etapes elementals:



[0,2 p]

Representació gràfica de la reacció (dibuix aproximat):

[0,8 p]



E_{a1} : Energia d'activació de l'etapa 1
 E_{a2} : Energia d'activació de l'etapa 2
 ΔH : Entalpia de la reacció

- Es penalitzarà 0,2 p si no indiquen bé l'energia d'activació (E_{a1})
- Es penalitzarà 0,2 p si no indiquen bé l'energia d'activació (E_{a2})
- Es penalitzarà 0,2 p si no indiquen bé l'entalpia de la reacció (ΔH)
- Es penalitzarà 0,2 p si indiquen que l'energia de productes és més gran que la de reactius (cal tenir en compte que la reacció és exotèrmica)

Pregunta 3.b)

Cal emprar el model de l'estat de transició (o complex activat).

Explicació del concepte d'energia d'activació**[0,6 p]**

Dins d'un mecanisme de reacció, en una etapa elemental per passar dels reactius als productes cal sempre passar per un estat anomenat *estat de transició* o *complex activat*, que té sempre més energia que reactius i productes. **La diferència d'energia entre aquest estat de transició i els reactius s'anomena 'energia d'activació'.**

Justificació de l'etapa més lenta**[0,4 p]**

L'etapa més lenta és aquella en què cal més energia per passar dels reactius a l'estat de transició, és a dir, la que té una major energia d'activació.

⇒ **L'etapa més lenta en la descomposició de l'ozó és l'etapa 1.**

Pregunta 4.a)

Quan en una reacció química s'assoleix l'equilibri, les concentracions de reactius i productes es mantenen constants amb el temps. Segons el gràfic, les concentracions d'A, B i C en equilibri serien:

$$[A] = 5 \text{ M} \quad [B] = 10 \text{ M} \quad [C] = 15 \text{ M}$$

[0,2 p]

Reacció: $2 \text{ A (g)} \rightleftharpoons 2 \text{ B (g)} + 3 \text{ C (g)}$

Constant d'equilibri K_c :

Expressió de la constant: $K_c = ([B]^2 \times [C]^3) / ([A]^2)$

[0,2 p]

$$K_c = (10^2 \times 15^3) / (5^2)$$

$$K_c = 13500$$

[0,2 p]

- Si expressen la K_c amb unitats es penalitzarà 0,1 p.

Constant d'equilibri K_p :

Procediment 1 per calcular la K_p

$$K_p = K_c (RT)^{\Delta n}$$

[0,2 p]

$$R = 0,082 \text{ atm L K}^{-1}$$

$$T = 300 \text{ K}$$

Δn (diferència de coeficients estequiomètrics de gasos entre productes i reactius)

$$\Delta n = (2+3)-(2)=3$$

$$K_p = 13500 \times (0,082 \times 300)^3$$

$$K_p = 2,01 \times 10^8$$

[0,2 p]

- Si expressen la K_p amb unitats es penalitzarà 0,1 p.

Procediment 2 per calcular la K_p

Expressió de la constant: $K_p = (p_B^2 \times p_C^3) / (p_A^2)$

[0,2 p]

Equació dels gasos en pressió parcial: $p_i V = n_i R T$

$$p_i = n_i R T / V = C_i R T$$

$$p_A = 5 \times 0,082 \times 300 = 123 \text{ atm}$$

$$p_B = 10 \times 0,082 \times 300 = 246 \text{ atm}$$

$$p_C = 15 \times 0,082 \times 300 = 369 \text{ atm}$$

Substituint les pressions en la K_p :

$$K_p = (246^2 \times 369^3) / (123^2)$$

$$K_p = 2,01 \times 10^8$$

[0,2 p]

- Si expressen la K_p amb unitats es penalitzarà 0,1 p.

Pregunta 4.b)Modificació de la K_c **[0,5 p]****La constant d'equilibri, K_c , només depèn de la temperatura.****Per tant, si la T es manté constant, la K_c també es manté constant**
(independentment del canvi de volum).Modificació de la massa del reactiu A**[0,5 p]**

Si augmentem el volum de recipient, **disminueix la pressió total** i la reacció per mantenir l'equilibri (*Llei de Le Chatelier*) **es desplaça cap a on hi ha més mols de gasos**.

Mols de gasos reactius (coeficients estequiomètrics) = 2

Mols de gasos productes (coeficients estequiomètrics) = 2 + 3 = 5

La reacció es desplaça cap als productes i, per tant, disminueix la massa d'A.

Pregunta 5.a)

Energia d'enllaç C-Br = 276 kJ/mol

Primer, cal passar l'energia per mol a energia per enllaç:

$$(276 \text{ kJ / mol}) \times (1000 \text{ J / kJ}) \times (1 \text{ mol enllaç} / 6,02 \cdot 10^{23} \text{ enllaç}) = 4,585 \times 10^{-19} \text{ J / enllaç}$$

[0,2 p]

A partir de l'equació de Planck, relacionarem l'energia de la radiació amb la freqüència:

$$E = h \nu \quad [0,2 \text{ p}]$$

$$\nu = E / h \Rightarrow \nu = 4,585 \cdot 10^{-19} / 6,63 \cdot 10^{-34}$$

$$\text{Freqüència: } \nu = 6,92 \cdot 10^{14} \text{ s}^{-1} \quad (\text{ó } 6,92 \cdot 10^{14} \text{ Hz}) \quad [0,2 \text{ p}]$$

Càlcul de la longitud d'ona:

$$\lambda = c / \nu \quad [0,2 \text{ p}]$$

$$\Rightarrow \lambda = 3,00 \times 10^8 / 6,92 \times 10^{14}$$

$$\text{Longitud d'ona: } \lambda = 4,34 \times 10^{-7} \text{ m} \quad [0,2 \text{ p}]$$

Pregunta 5.b)

Un **orbital atòmic**, segons el model ondulatori de l'àtom, és una funció d'ona que ens descriu una regió de l'espai on hi ha una alta probabilitat de trobar un electró en un determinat estat energètic, fixats els nombres quàntics n, l i m.

[0,4 p]

El nombre atòmic de l'àtom de brom és: $Z = 35 \Rightarrow$ el brom té 35 electrons

Configuració electrònica del brom:

$$1s^2, 2s^2, 2p^6, 3s^2, 3p^6, 4s^2, 3d^{10}, 4p^5 \quad [0,2 \text{ p}]$$

L'electró més extern de l'àtom de brom es troba en l'orbital 4p.

Els seus nombres quàntics són:

$$n = 4$$

$$l = 1$$

$$m = -1, 0, \text{ o } +1 \quad (\text{qualsevol d'ells})$$

$$s = 1/2 \text{ o } -1/2 \quad (\text{qualsevol d'ells})$$

[0,1 p per cada nombre quàntic. Total: 0,4 p]

Pregunta 6.a)

A partir de la reacció igualada (estequiometria 1 a 1):

$$\text{AgNO}_3 \quad V = 23,5 \text{ mL} = 0,0235 \text{ L}$$

$$(0,0235 \text{ L}) \times (0,265 \text{ mol / L}) = 0,0062275 \text{ mol de AgNO}_3 \text{ gastats}$$

$$\text{mol de AgNO}_3 \text{ gastats} = \text{mol inicials de Cl}^-$$

$$\Rightarrow 0,0062275 \text{ mol de Cl}^-$$

[0,4p]

Transformem els mols de Cl^- en g de NaCl:

$$0,0062275 \text{ mol Cl}^- \times (1 \text{ mol NaCl} / 1 \text{ mol Cl}^-) \times (58,5 \text{ g NaCl} / 1 \text{ mol NaCl}) = 0,3643 \text{ g NaCl}$$

[0,2 p]

Ho transformem en concentració:

$$\text{Volum de solució valorada} = 20,0 \text{ mL} = 0,0200 \text{ L}$$

$$\text{Concentració de NaCl} = (0,3643 \text{ g}) / (0,0200 \text{ L}) = 18,2 \text{ g/L}$$

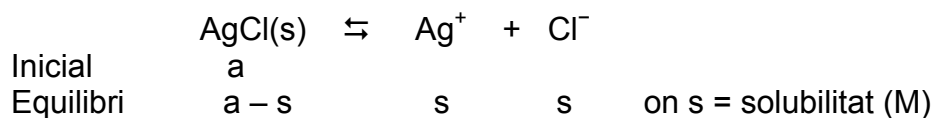
$$\Rightarrow \text{Salinitat (concentració de NaCl)} = \mathbf{18,2 \text{ g/L}}$$

[0,4 p]

Pregunta 6.b)Equilibri de solubilitat:Càlcul de la solubilitat

Expressió de la constant de solubilitat:

$$K_{ps} = [\text{Ag}^+][\text{Cl}^-] \quad [0,2 \text{ p}]$$



Introduïm la solubilitat a l'expressió anterior:

$$K_{ps} = (s) \cdot (s) = s^2 \quad [0,1 \text{ p}]$$

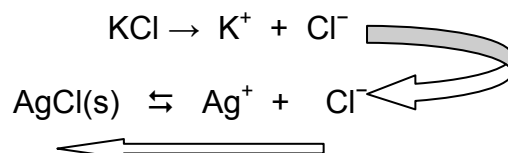
$$s = (K_{ps})^{1/2}$$

$$s = (1,7 \times 10^{-10})^{1/2}$$

$$\Rightarrow \mathbf{s \text{ (solubilitat)} = 1,30 \times 10^{-5} \text{ mol/L}} \quad [0,2 \text{ p}]$$

La solubilitat del AgCl disminuirà en una solució aquosa concentrada de KCl per efecte de l'ió comú (ió clorur) que desplaçarà la reacció de solubilitat cap a l'esquerra (reactius).

[0,3 p]

Opcional:

Pregunta 7.a)Concentració de la solució aquosa de HCOOH formada en el nostre cos:

massa molecular HCOOH = $1+12+(2 \times 16)+1 = 46$ g/mol
 mols de HCOOH:

$$0,003 \text{ mL HCOOH} \times (1,20 \text{ g HCOOH} / 1 \text{ mL HCOOH}) \times (1 \text{ mol HCOOH} / 46 \text{ g HCOOH}) =$$

$$= 7,826 \times 10^{-5} \text{ mol HCOOH} \quad \text{[0,1 p]}$$

volum de la solució: podem negligir els 0,003 mL en front del 1,0 mL
 volum de la solució = 1,0 mL = $1,0 \times 10^{-3}$ L

- *Es correcte si el volum total consideren que és la suma dels 0,003 mL més el 1,0 mL ($V = 1,003 \text{ mL} = 1,003 \times 10^{-3} \text{ L}$).*

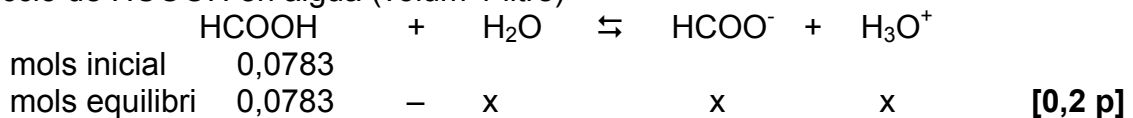
$$C_{\text{HCOOH}} = 7,826 \times 10^{-5} \text{ mol HCOOH} / 1,0 \times 10^{-3} \text{ L}$$

$$C_{\text{HCOOH}} = \mathbf{7,83 \times 10^{-2} \text{ M}} \quad \text{[0,1 p]}$$

- *Si han agafat el volum total 1,003 mL, la concentració de HCOOH té un valor de $7,80 \times 10^{-2} \text{ M}$.*

Càlcul del pH:

Reacció de HCOOH en aigua (volum 1 litre)



$$K_a = [\text{HCOO}^-] \cdot [\text{H}_3\text{O}^+] / [\text{HCOOH}] \quad \text{[0,2 p]}$$

$$1,8 \times 10^{-4} = [(x) \cdot (x)] / [0,0783 - x]$$

$$1,8 \cdot 10^{-4} = x^2 / (0,0783 - x)$$

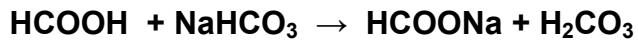
$$\text{Si considerem: } 0,0783 - x \approx 0,0783 \Rightarrow 1,8 \times 10^{-4} = x^2 / (0,0783)$$

$$x = (1,8 \times 10^{-4} \times 0,0783)^{1/2} = 0,003754 \text{ mols}$$

$$[\text{H}_3\text{O}^+] = x = 0,003754 \text{ mol} / 1 \text{ L} = 0,003754 \text{ M} \quad \text{[0,2 p]}$$

$$\text{pH} = -\log [\text{H}_3\text{O}^+]$$

$$\text{pH} = -\log 0,003754 \Rightarrow \mathbf{\text{pH} = 2,4} \quad \text{[0,2 p]}$$

Pregunta 7.b)Reacció de neutralització:**[0,5 p]**Càlcul de la massa de NaHCO_3 necessària per neutralitzar:**[0,5 p]**

Massa molecular $\text{NaHCO}_3 = 23 + 1 + 12 + (16 \times 3) = 84 \text{ g/mol}$

$$0,003 \text{ mL HCOOH} \times (1,20 \text{ g HCOOH} / 1 \text{ mL HCOOH}) \times (1 \text{ mol HCOOH} / 46 \text{ g HCOOH}) \times (1 \text{ mol NaHCO}_3 / 1 \text{ mol HCOOH}) \times (84 \text{ g NaHCO}_3 / 1 \text{ mol NaHCO}_3) = 6,57 \times 10^{-3} \text{ g NaHCO}_3$$

⇒ **Es necessiten $6,57 \times 10^{-3} \text{ g NaHCO}_3$ per neutralitzar l'àcid fòrmic que conté la picada.**